


تمرين 6: زرع الفلاح 35 شجرة في الصباح و 12 شجرة في المساء.
• كم شجرة زرع الفلاح؟




تمرين 7: في قسم السنة الثانية 17 تلميذا و 20 تلميذة.
• كم عدد تلاميذ القسم؟




تمرين 8: كان في المخزن 48 قارورة ماء، بيع منها 28 قارورة.
• كم قارورة بقيت؟



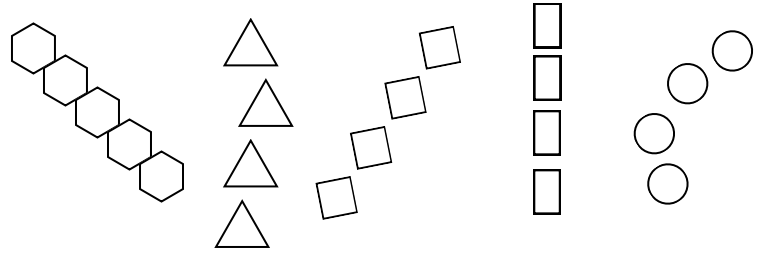
تمرين 9: عند يوسف 30 كرة أخذ صديقه 14 كرة.
• كم بقي عند يوسف؟



تمرين 1: لون الأزهار التي على استقامية واحدة



تمرين 2: لون الأشكال التي على استقامية واحدة



تمرين 3: اكمل كما في المثال
5 وحدات و 8 عشرات هو العدد 85

$$85 = 80 + 5$$

3 وحدات و 7 عشرات هو العدد ..

$$.. = .. + ..$$

6 وحدات و 9 عشرات هو العدد ..

$$.. = .. + ..$$

وحدة و 8 عشرات هو العدد ..

$$.. = .. + ..$$

9 وحدات و 6 عشرات هو العدد ..

$$.. = .. + ..$$

تمرين 4: احسب

$$99 = .. + ..$$

$$85 = .. + ..$$

$$92 = .. + ..$$

$$78 = .. + ..$$

$$88 = .. + ..$$

$$74 = .. + ..$$

$$.. = 60 + 2$$

$$.. = 70 + 7$$

$$.. = 60 + 5$$

$$.. = 80 + 9$$

$$.. = 90 + 1$$

$$.. = 50 + 6$$

تمرين 5: وزعت المعلمة بطاقتين على إيمان ومريم.

كانت بطاقة إيمان مكتوب عليها 6 + 70،

وبطاقة مريم مكتوب عليها 7 وحدات و 6 عشرات.

• من عندها العدد الأكبر؟ لماذا.

