

السنة 1 ابتدائي

الأستاذة عرفى أمال

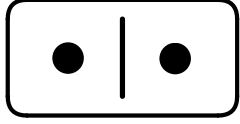
ورقة عمل

ضعف عدد أصغر من 10

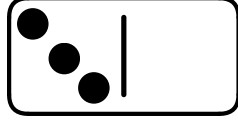
مدرسة : .....

الاسم و اللقب: .....


النشاط 01 : أكمل رسم الدومينو ثم جد الضعف



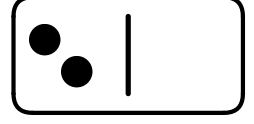
ضعف 1 هو 2



ضعف 3 هو ...




ضعف 4 هو ...




ضعف 2 هو ...

النشاط 02 : أكمل رسم الضعف حسب المثال




$$4 + \dots = \dots$$

ضعف 4 هو ...




$$9 + \dots = \dots$$

ضعف 9 هو ...




$$5 + 5 = \dots$$

ضعف 5 هو ...




$$2 + 2 = \dots$$

ضعف 2 هو 4




$$8 + \dots = \dots$$

ضعف 8 هو ...




$$3 + \dots = \dots$$

ضعف 3 هو ...



$$7 + \dots = \dots$$

ضعف 7 هو ...



$$1 + \dots = \dots$$

ضعف 1 هو ...

الوضعية :

تَمْلِكُ لَيْلَى 4 تفاحات و يَمْلِكُ مُنِيرُ ضِعْفَ العَدَدِ .  
- أرسم ضعف عدد التفاح  
- أكمل ملء الفراغ .



$$4 + \dots = \dots$$


الاسم و اللقب:.....	الأستاذة عرقي أمال
ورقة عمل	
ضعف عدد أصغر من 10	
السنة	ابتدائي
مدرسة : .....	

### النشاط 01 : أكمل رسم الدومينو ثم جد الضعف




ضعف 1 هو 2 ... ضعف 2 هو ... ضعف 3 هو ... ضعف 4 هو ...

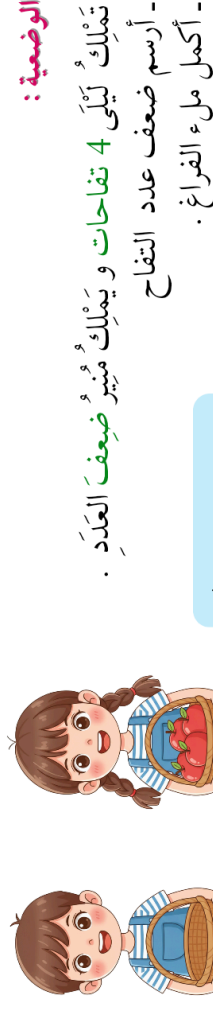
### النشاط 02 : أكمل رسم الضعف حسب المثال



4+... = ... ضعف 4 هو ...  
2+2 = ... ضعف 2 هو 4  
5+5 = ... ضعف 5 هو ...



8+... = ... ضعف 8 هو ...  
1+... = ... ضعف 1 هو ...  
7+... = ... ضعف 7 هو ...



الوضعية :

تملأ كَيْكِي 4 تفاحات و يَمْلَأُ مِسِيرُ الضِعْفِ العَدَدَ .  
- أرسم ضعف عدد التفاح  
- أكمل ملء الفراغ .

$$4+... = ...$$


الاسم و اللقب:.....	الأستاذة عرقي أمال
ورقة عمل	
ضعف عدد أصغر من 10	
السنة	ابتدائي
مدرسة : .....	

### النشاط 01 : أكمل رسم الدومينو ثم جد الضعف




ضعف 1 هو 2 ... ضعف 2 هو ... ضعف 3 هو ... ضعف 4 هو ...

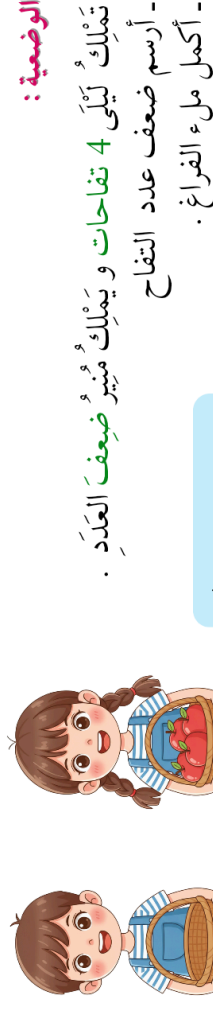
### النشاط 02 : أكمل رسم الضعف حسب المثال



4+... = ... ضعف 4 هو ...  
2+2 = ... ضعف 2 هو 4  
5+5 = ... ضعف 5 هو ...



8+... = ... ضعف 8 هو ...  
1+... = ... ضعف 1 هو ...  
7+... = ... ضعف 7 هو ...



الوضعية :

تملأ كَيْكِي 4 تفاحات و يَمْلَأُ مِسِيرُ الضِعْفِ العَدَدَ .  
- أرسم ضعف عدد التفاح  
- أكمل ملء الفراغ .

$$4+... = ...$$